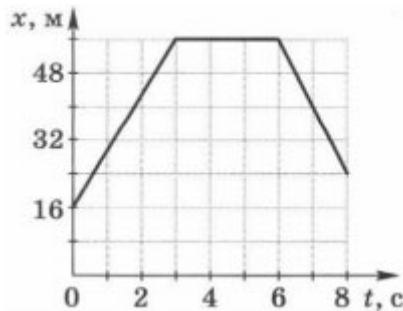


# Тест по физике

## Прямолинейное равномерное движение 9 класс

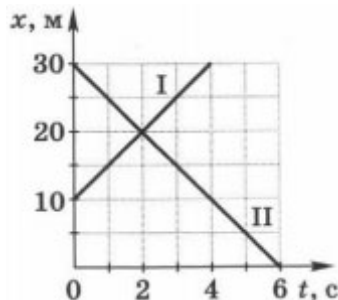
### Вариант 1

1. Укажите, в каких из приведённых ниже примеров движение тела можно принять за равномерное.
- А) движение парашютиста с раскрытым парашютом в безветренную погоду  
Б) движение шарика, брошенного вертикально вверх
- 1) только А  
2) только Б  
3) и А, и Б  
4) ни А, ни Б
2. Тело начало двигаться против оси ОХ со скоростью 1,2 м/с из точки с координатой 2,3 м. Уравнение, с помощью которого можно определить координату тела в произвольный момент времени, имеет вид
- 1)  $x = -2,3 + 1,2t$   
2)  $x = -2,3 - 1,2t$   
3)  $x = 2,3 - 1,2t$   
4)  $x = 2,3 + 1,2t$
3. На рисунке представлен график зависимости координаты прямолинейно движущегося тела от времени.



Определите по графику модуль средней скорости движения тела за первые 4 с.

4. Два тела движутся прямолинейно. На рисунке изображены графики зависимости координат этих тел от времени.



Выберите из предложенного перечня два верных утверждения.

- 1) модуль скорости тела I равен модулю скорости тела II  
2) оба тела движутся в одном направлении  
3) модуль скорости тела I равен 10 м/с  
4) модуль скорости тела II равен 15 м/с  
5) тело II движется в направлении, противоположном направлению оси ОХ
5. Запишите кратко условие задачи и решите её.  
Даны уравнения движения двух тел, движущихся прямолинейно:  $x_1 = 6 - 2t$  (м) и  $x_2 = 8t$  (м). Определите координату второго тела в момент времени, когда первое тело окажется в начале координат.
6. Можно ли утверждать, что движение тела было равномерным, если за каждую минуту своего движения тело проходило 1,2 км? Ответ поясните.

# Тест по физике

## Прямолинейное равномерное движение 9 класс

### Вариант 2

1. Укажите, в каких из приведённых ниже примеров движение тела можно принять за равномерное.

А) падение камня с небольшой высоты

Б) движение Земли вокруг Солнца

1) только А

2) только Б

3) и А, и Б

4) ни А, ни Б

2. Тело начало двигаться со скоростью 0,8 м/с, направленной по оси X, из точки с координатой -6 м. Уравнение, с помощью которого можно определить координату тела в произвольный момент времени, имеет вид

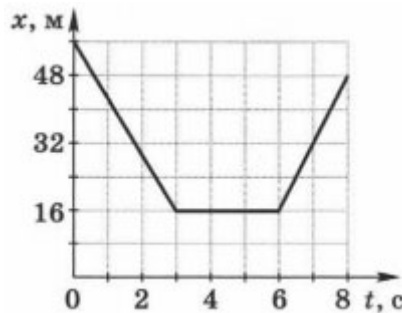
1)  $x = -6 + 0,8t$

2)  $x = -6 - 0,8t$

3)  $x = 6 - 0,8t$

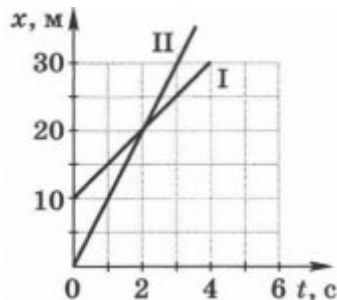
4)  $x = 6 + 0,8t$

3. На рисунке представлен график зависимости координаты прямолинейно движущегося тела от времени.



Определите по графику модуль средней скорости движения тела за первые 5 с.

4. Два тела движутся прямолинейно. На рисунке изображены графики зависимости координат этих тел от времени.



Выберите из предложенного перечня два верных утверждения.

1) модуль скорости тела I равен 10 м/с

2) за 4 с тело I переместилось на 30 м

3) скорость тела II больше скорости тела I на 5 м/с

4) в момент времени, когда тело I начало движение, тело II было на расстоянии 10 м от начала отсчёта

5) оба тела движутся в одном направлении

5. Запишите кратко условие задачи и решите её.

Даны уравнения движения двух тел, движущихся прямолинейно:  $x_1 = -4 + 8t$  (м) и  $x_2 = 20 - 4t$  (м).

Определите координату тел в момент их встречи.

6. Можно ли утверждать, что движение тела было равномерным, если за каждую секунду своего прямолинейного движения тело проходило 1 м? Ответ поясните.

## Ответы на тест по физике Прямолинейное равномерное движение 9 класс

### Вариант 1

1-1

2-3

3. 10 м/с

4. 15

5. 24 м

6. Нельзя. Хотя тело и проходит за равные промежутки времени одинаковое расстояние, но мы ничего не знаем о его скорости.

### Вариант 2

1-2

2-1

3. 8 м/с

4. 35

5. 12 м

6. Нельзя. Хотя тело и проходит за равные промежутки времени одинаковое расстояние, но мы ничего не знаем о его скорости.